

25001

шифр

Олимпиадная работа
школьного этапа всероссийской олимпиады школьников
по МХК
2023 – 2024 учебного года

ученика (цы) 10 А класса _____

ГБОУ БИЮЛИ

(наименование ОУ)

12.01.2008г.

(дата рождения)

Магомедрахимова Асият Эльдаровна

(фамилия, имя, отчество в родительном падеже)

К олимпиаде подготовил (а)

(фамилия, имя, отчество учителя)

Внимание: фамилия, имя и отчество ученика и подготовившего к олимпиаде учителя пишется полностью и разборчиво (при неразборчивом почерке – печатными буквами).

Шифр

251001

Управление образования администрации города Белгорода
Школьный этап всероссийской олимпиады школьников

по искусству (МХК) в 2023 – 2024 учебном году

10-11 классы

Уважаемый участник олимпиады!

Время выполнения работы – 120 минут

Максимальное количество баллов – 240 баллов.

Последовательность выполнения работы Вы определяете самостоятельно. Если какое-то задание вызывает затруднение, пропустите его. К пропущенным заданиям можно будет вернуться, если у Вас останется время.

Задание 1. Познакомьтесь с приметами произведения искусства, приведенными в тексте:

«... Это был второй конный памятник русскому царю. В условном одеянии, на вздыбленной лошади, царь изображается автором как законодатель и цивилизатор. Вот что писал по этому поводу сам автор: «Монумент мой будет прост... Я ограничусь только статуей этого героя, которого я не трактую ни как великого полководца, ни как победителя, хотя он, конечно, был и тем и другим. Гораздо выше личность создателя-законодателя...» Скульптор изобразил царя в подчеркнутую динамическом состоянии, одет его в простую и лёгкую одежду, которая, по словам скульптора, принадлежит «всем нациям, всем мужам и всем векам; одним словом, это героическое одеяние». Богатое седло он заменил медвежьей шкурой, которая символизирует нацию, цивилизованную государем. Постамент в виде громадной скалы — символ преодолённых царём трудностей, а введённая в композицию змея представляет собой остроумную находку в решении задачи по обеспечению статической устойчивости монумента. Её появление под ногами вздыбленного коня достаточно убедительно объясняется тем, что она изображает «вращающие силы». И только венки из лавра, венчающий голову, да меч, висящий у пояса, указывают на роль царя как полководца-победителя».

1. Определите произведение искусства по перечисленным приметам.
2. Укажите вид искусства, к которому оно принадлежит.
3. Напишите полное имя его создателя.
4. Укажите время, когда он был создан.
5. Каким событиям в России посвящён этот монумент или какие факты о самом произведении искусства ты можешь назвать?

Название произведения	
Автор	
Вид искусства	
Время создания	
Факты о произведении искусства	


Максимальная оценка 11 баллов.

Задание 2. Даны три изображения памятников искусства. Напишите:

1. Названия изображенных на иллюстрациях памятников.
2. К какому виду искусства относятся.
3. К какой стране или культуре они относятся.
4. Время их создания.
5. Их местонахождение в настоящее время.



А



Б



В

Таблица для ответов

Произведение. Автор (дополнительно)	Вид искусства	Страна	Век или эпоха	Местонахождение
А	Малая форма	Россия	XIII в.	Икона
Б	Скульптура	Россия	XV-XVI вв.	Музей
В	Скульптура	Россия	XVII в.	Музей

Максимальная оценка: 18 баллов. **28**

Задание 3. Рассмотрите и проанализируйте произведение русской живописи.

1. Напишите название работы и ее автора, время создания.
2. Опишите общую композицию работы.
3. Назовите значимые запоминающиеся детали и их функции.
4. Определите общее настроение работы.
5. Укажите три работы этого же художника.
6. Назовите жанр и укажите три работы этого же жанра (название, автор).



Ответ

Анализ ответа. Оценка.

Максимальная оценка 31 балл.

Задание 4. Соотнесите картины известных художников и их картины, укажите названия шедевров:



В

Б

А



Г



Д



Ж

250001

Художники: Ренин И.Е., Сальвадор Дали, Айвазовский И.К., Винсент Ван Гог, Врубель М.А., Брюллов К.П.

Автор	Винсент Ван Гог	Айвазовский И.К.	Брюллов К.П.	Врубель М.А.	Сальвадор Дали	Ренин И.Е.
Буква картины	Ж	Д	А	Б	Г	В
Название	Вулкан	Ужасная буря				Родился небо

08

Максимальное количество баллов – 18 баллов.





Задание 5.



Даны изображения архитектурных построек.

1. Дать определение типа постройки.
2. Определить.



Записать в таблицу:

- Время создания объектов.
- Названия архитектурных объектов.
- Имена архитекторов.
- Стиль.
- Страну

3		
4		<ul style="list-style-type: none"> - 16 в. - Царский дом - Россия
5		<ul style="list-style-type: none"> - 18 в. - Исаакиевский собор - Католический - Россия, Санкт-Петербург
6		

№	Изображение постройки
1	
2	

- Римский
- Франция

7		- 196 - Франция - Клод Лоран - Ренессанс; еПБ
8		

Анализ ответа. Оценка.

1. Тип построек — дворцы. Определение: Слово «дворец» является уменьшительным образованием от «двор, участок земли», буквально «жилая, но меньшая часть двора». В западной традиции считается, что латинское слово palatium (дворец) ведёт своё происхождение от названия Палатиноского холма, где размещалась резиденция римских императоров и называлась palatium — итальянский городской дворец-особняк — 2 балла.

№ фото	Время создания объектов	Названия архитектурных объектов	Имена архитекторов	Стили	Страна
2	16 в. 0			готика	Франция 16
4	18 в. 25	Царский двор 0			Россия 16
5	18 в. 25	Царский дворец 0		Классицизм 0	Россия 16
7	19 в. 0	Амальгат 0		Классицизм	Россия 16

Максимум 105 баллов.

88

Задание 6.

1. Каждое из изображений, приведённых ниже, относится к одному из указанных в перечне музыкальных произведений. Установите соответствие между изображением и музыкальным произведением.



Музыкальные произведения: А) опера «Иван Сусанин» Б) балет «Ромео и Джульетта» В) опера «Князь Игорь» Г) рок-опера «Иисус Христос — суперзвезда» Д) мюзикл «Вестсайдская история» Е) Опера «Снегурочка» Ж) опера «Кармен» З) мюзикл «Нотр-Дам де Пари»

2. Выберите из списка композиторов авторов данных музыкальных произведений: А.П. Бородин, М.И. Глинка, Н.А. Римский-Корсаков, Ж. Бизе, С.С. Прокофьев, Э.Л. Уэббер, Л. Бернштейн, Р. Коччанте.

Свои ответы занесите в таблицу:

Изображение	Название произведения	Автор (композитор)
1	Б 25	
2	Г 05	
3	Е 05	
4	В 25	

257001

5	26
6	05
7	25
8	26

Максимальный балл за 9 задание – 32 балла. 108

Задание 7. Историк культуры должен правильно писать искусствоведческие термины. Впишите буквы вместо пропусков.

1. Бок дюр – орнаментальное украшение в виде совокупности равных фигур, повторяющихся последовательно вдоль прямой линии.
2. Дризадль – вид декоративной живописи, выполняемой в разных оттенках какого-либо цвета.
3. он р – очертание предмета, абрис, линия, очерчивающая форму.
4. Монолидия – вид печатной графики.
5. Перспектива – система изображения объемных тел на плоскости, передающая их собственную пространственную структуру и расположение в пространстве, в том числе удаленность от наблюдателя.

Максимальная оценка – 5 баллов 18

Задание 8.

Дан ряд имён и терминов:

Мессапцизм, сграффито, Моцарт, методформы, тысячелетная, Рации, бирюка, Гайпл, Нилетов, фреска, Стриков, кашитель, модерн, Бендоен, портрет, боевик, темпл, Крамской, машика, триклет

14

Свои ответы занесите в таблицу.

1. Объедините имена и термины в группы.
2. Дайте определение каждой группе.
3. Из ряда имён и терминов дайте любым четырём словам лаконичное пояснение, определение.

№ группы	Имена и термины группы	Определение группы
1	стиль, классицизм, барокко, архитектурные шпалеры	
2	реализм, импрессионизм, авангардизм	
3	Шарлотт, Боттичелли, Пайф	
4	Дункан, Ренит, Полсева, Крамской	
5	ответственный, фреска, мозаика, сграффито	
6	Эльмер, портрет, шпалер, натюрморт	

Максимальное количество баллов за задание: 20 баллов.

48 + 48 = 85

2 + 8 + 10 + 1 + 8 = 298

250804
шифр

Олимпиадная работа
школьного этапа всероссийской олимпиады школьников
по МХК
2023 – 2024 учебного года

ученика (цы) 8 класса Б'

ГБОУ ВШОМ

(наименование ОУ)

19.11.2009

(дата рождения)

Лустовой Марии Евгеньевны

(фамилия, имя, отчество в родительном падеже)

К олимпиаде подготовил (а)

Цыбульникова Элла Александровна

(фамилия, имя, отчество учителя)

Внимание: фамилия, имя и отчество ученика и подготовившего к олимпиаде учителя пишется полностью и разборчиво (при неразборчивом почерке – печатными буквами).

Шифр

250804

Управление образования администрации города Белгорода
Школьный этап всероссийской олимпиады школьников
по искусству (МХК) в 2023 – 2024 учебном году

7-8 классы

Уважаемый участник олимпиады!

Время выполнения работы – 120 минут

Максимальное количество баллов – 111 баллов.

Последовательность выполнения работы Вы определяете самостоятельно. Если какое-то задание вызывает затруднение, пропустите его. К пропущенным заданиям можно будет вернуться, если у Вас останется время.

Первый тип заданий

1. Прочитай описание картины, напиши название картины и её автора. К какому жанру относится это произведение? (за каждый верный ответ по 2 балла, максимум 6 баллов)

Комната наполнена ярким солнечным светом. Лучи утреннего солнца освещают юную героиню картины, и все, что окружает ее в этой комнате. На переднем плане изображен круглый стол, а на нем готов завтрак: хлеб в тарелке, масло, кувшин с молоком. В центре картины мы видим девочку, делающую зарядку. На бледно-желтой стене висит декоративная тарелка с росписью гжель-птицы. Между окнами старинного типа висит кашпо. Веточки и листочки цветов переплелись и образуют красивую зеленую арку. Двери на балконе открыты. И с улицы комната наполняется звуками, красками и настроением утреннего города.

Название картины _____

Автор произведения _____

Жанр _____

2. Узнайте произведение по его описанию. Напишите название фильма, фамилию, имя режиссёра, фамилию, имя актёра, сыгравший главную роль местного мэра. (за каждый верный ответ по 2 балла, максимум 6 баллов)

В фильме описывается поездка журналиста на Кавказ, задача которого была снять репортаж о местных красотах и традициях. Он попадает в Горск, вотчину местного мэра города Георгия Гаджиевича Саахова. Тот, поддерживая моду, заданную губернатором, задумал жениться на молоденькой красавице, спортсменке и комсомолке, которая так понравилась журналисту. Используя незадачного журналиста, мэр и его подручные похищают девушку.

Крылатые фразы этого киногероя «Плохо ещё мы воспитываем нашу молодежь!», «Шляпу снимил!», «Садитесь, пока!», «Мне теперь из этого дома есть два пути: или я ее веду в ЗАГС, либо она меня ведет к прокурору!».

Название фильма _____

Фамилия, имя режиссёра _____

Фамилия, имя актёра, сыгравший главную роль местного мэра _____

Второй тип заданий

3. Даны произведения живописи, надо определить:


А) Напишите название картины (1 балл).

Б) Напишите имя ее автора (1 балл).

В) Напишите, в каком жанре выполнена картина (1 балл).

Г) Опишите общую композицию картины не менее 4-5 предложений (максимально 10 баллов).

Общее количество баллов за это задание максимум 52 балла



A)
 B)
 B)
 Г)



A) **Смертник 105**
 Б)
 В) **Портрет 0**
 Г) **Центром этой картины является скульптура эмальеры-оружейника и конструктора палача. Кэ одерживает светом, в то время как скульптура режет эмалью. 105**

115



A) **Звезда и комета 105**
 Б) **Викенте Ван Ло 105**
 В) **Пейзаж 105**
 Г) **Портретом картины художник изображает женщину в темной юбке. Три звезды на полотне символизируют рождение, похороны и смерть. Художник использует для этого символы: звезда, комета и светил. Светило символизирует рождение, звезда — смерть, комета — похороны.**

Визуально выделены крышки голов. 105 130



A)
 Б)
 В) **Портрет 105**
 Г) **На переднем плане мы видим старика, держащего в руке книгу. Он одет в темную, шерстяную одежду. За ним стоит женщина в темной одежде. В центре картины, в то время как в снегу, пролетает птица. Творческий образ — символ Вегетерия на картине Тенниса Петрова.**

115

260804

Третий тип задания

4. Дан ряд репродукций картин художников. Их можно разбить на группы. Предложите свои два варианта разбивки на группы. Дайте название каждой группе. (за каждую картину в группе, правильно определённую, по 1 баллу, за каждую правильно выполненную разбивку на группы по 1 баллу, максимально за задание 16 баллов)

Название картин: «Первый снег», «Ужин тракториста», «Сенокос», «Подмосковье», «Подмосковный пейзаж», «Колхоз «Загорье».

		
№1	№2	№3
		
№4	№5	№6

Вариант разбивки 1.

№ произведения	Признак разбивки на группы
1, 2, 3, 35	пейзажи с участием людей
4, 5, 6, 30	пейзажи со снегом и техникой

Вариант разбивки 2.

№ произведения	Признак разбивки на группы

86

Четвертый тип задания

5. Даны ряды слов. Найдите лишнее слово в каждой строке и вычеркните его. Кратко поясните свое решение (за каждое верное объяснение по 3 балла, максимально за задание 6 баллов)

А) Шопен, Моцарт, Кетч, Бизе, Шуберт

Почему? Юри не является коллекционером Аверини 05

Б) Суриков, Репин, Айвазовский, Серов, Бригглов

Почему?

6. Назвать архитектурное сооружение и место его нахождения (город). Ответы вписать в таблицу. (за каждый правильный ответ 1 балл, максимально 12 баллов)

№1	№2	№3
№4	№5	№6

Ответы вписать в таблицу

№ п/п	Название архитектурного сооружения	Место его нахождения
№1		
№2	Театр им. Щепкина 10	г. Белгород 18
№3		Прожекторка 18
№4		
№5		Хорошо

№6

~~Белгород~~

Москва

05

Пятый тип задания

7. Рассмотрите картину и ответьте на вопросы

1. Напишите название картины (1 балл).
2. Напишите имя ее автора (1 балл).
3. Напишите, в каком жанре выполнена картина (1 балл).
4. Опишите сюжет картины (максимально 10 баллов). (максимальное количество 13 баллов)



1.

2.

3.

Портрет - пейзаж

305

250804

Найдите корень уравнения
 $\log_2(\log_3 x) = \log_3(\log_2 x)$
с указанием корней.

4.

$$32 + 85 + 3 = 430$$